

※問題用紙 4枚
 ※解答用紙 1枚

座席番号		考査番号		名前	
------	--	------	--	----	--

(注意) 答えはすべて解答用紙に書きなさい。

1 次の文章を読んで、あとの問いに答えなさい。

ひと月に三十五日雨が降るといわれる(1)島は、①鹿児島県にあり、1993年に島の20%が②世界遺産として登録されました。この島の近くには③鉄砲の伝来地であり、④日本の宇宙開発の拠点としても有名な(2)島、^{くちのえらぶじま}口永良部島があり、(3)諸島を形成しています。近海には⑤日本海流が流れ、これに乗ってウミガメが産卵にやってくる永田浜は湿地の保存に関する国際条約である(4)条約に登録されています。縄文杉で一躍有名になったこの島は、年間10万人を超える観光客が訪れます。この島は、九州地方で最も高い宮之浦岳(1,936m)をはじめ1,000mを超える山々が数多くあり、洋上のアルプスとも言われています。沿岸部から山頂部までの標高差が大きいため、小さな島ですが気候は変化に富んでいます。年間平均気温でみると、標高の低い沿岸部では⑥沖縄県の県庁所在地⑦那覇と同じ気候帯、標高1,000mあたりまでは石川県の県庁所在地⑧金沢と同じ気候帯、山頂付近では北海道の道庁所在地の⑨札幌と同じ気候帯で雪も降ります。こうした気候の変化がこの島の様々な自然をつくりだしているのです。

問1 文中の(1)(2)(4)に当てはまる語を下から選びなさい。

世界遺産 ラムサール 種子 屋久 淡路 国後

問2 文中の(3)に当てはまる語を下から選びなさい。

伊豆 大隅 佐渡 対馬 千島

問3 下線部①について、鹿児島県に関連する次の問いに答えなさい。

(1) 昨年一年間で1,000回を超える噴火を記録した火山は何か、下から選びなさい。

阿蘇山 桜島 雲仙岳 浅間山

(2) 鹿児島県に広がる水持ちの悪い火山灰地を何というか、答えなさい。

(3) 鹿児島県の県庁所在地はどこか、答えなさい。

(4) 鹿児島県が生産量全国一を誇る畜産物は何か。次から二つ選び、記号で答えなさい。(2010年『日本国勢図会』より)

ア、牛肉 イ、羊肉 ウ、豚肉 エ、馬肉 オ、肉用若鶏(ブロイラー)

(5) 江戸時代末期に薩摩藩士(鹿児島藩士)として活躍した人物を下から選びなさい。

板垣退助 大久保利通 坂本龍馬 木戸孝允 大隈重信

問4 下線部②について、世界遺産に登録されていないものを下から選びなさい。

白神山地 法隆寺 中尊寺 日光東照宮

問5 下線部③について、日本に鉄砲が伝来したのはいつ頃か、下から選びなさい。

15世紀前半 15世紀後半 16世紀前半 16世紀後半 17世紀前半

問6 下線部④について、2010年6月に惑星イトカワに着陸した小惑星探査機が地球に戻ってきた。7年もの歳月をかけて地球に帰還したその小惑星探査機の名前をひらがな4字で答えなさい。

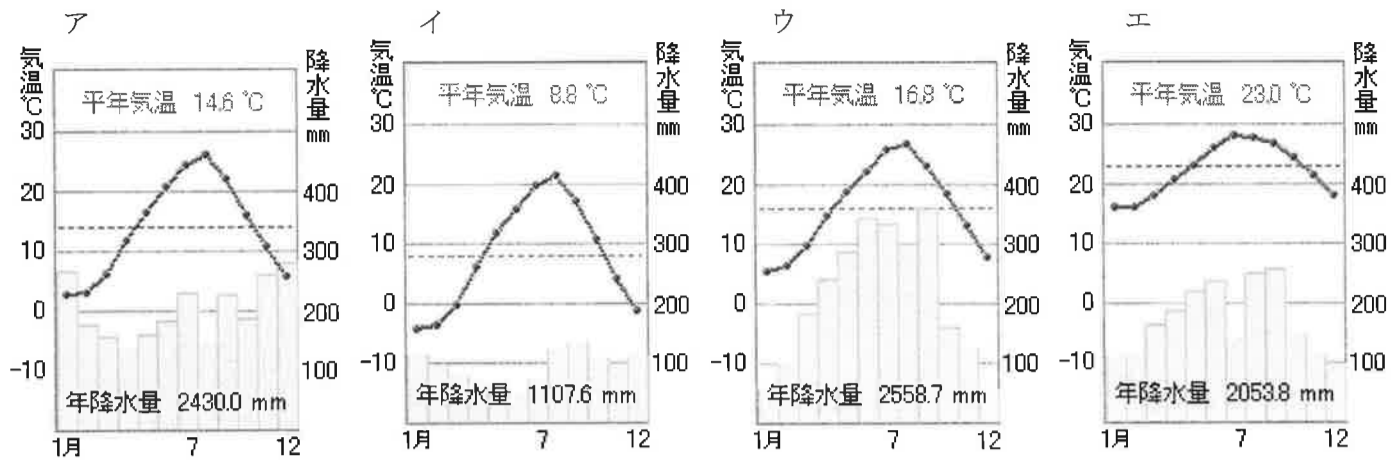
問7 下線部⑤について、この海流は別名黒潮ともいわれるが、親潮と呼ばれる海流の別名は何か、漢字で答えなさい。

問8 下線部⑥について、次の文章の()にあてはまる語を入れなさい。なお、人名は苗字だけでよい。

日本の国土面積のわずか(あ)%しかない沖縄県には、在日米軍基地の約75%が集中している。こうした沖縄県の負担を軽減させようと(い)首相は同県宜野湾市にある(う)飛行場の施設の県外移設を考えたが、地元沖縄県に期待を持たせただけで、実現させることなく辞任した。後任の菅直人首相も沖縄県の負担軽減を口にはしているが、先行きは不透明である。

※(あ)については、沖縄県の面積を2,300 km²として計算し、小数第一位まで答えなさい。例) 0.2

問9 下線部⑦～⑨について、それぞれの都市の雨温図を下から選び、記号で答えなさい。



2 次の文章の下線部には、それぞれ3か所ずつ誤りが含まれており、下の語群の中に正しく直す語がある。例にならって誤っている語を答え、正しく直す語を下から選びなさい。また、あとの問いに答えなさい。

【例】聖学院中学校は私立の共学校であり、JR山手線の駒込駅が最も近い下車駅です。

公立 国立 女子校 男子校 田端駅 巣鴨駅

【考え方】2番目の共学校を下語群の男子校に直すと正しい文になる。 【答え】共学校→男子校

- A 1156年の前九年の役や1159年の平治の乱に勝利して権力を強めた①平清盛は、武士としてはじめて摂政となり、多くの荘園を手に入れて権力を独占しました。しかし、一族の者ばかりを優遇したので、貴族や寺社、地方の武士の反感を招いてしまいました。なかでも源頼朝は鎌倉に拠点をもうけて東国の武士を結集し、平氏に対抗しました。頼朝の弟である源義家の活躍などにより、平氏は壇ノ浦でとうとう滅ぼされてしまいました。
- B 6世紀の後半、女性の推古天皇が即位すると、おいの聖徳太子(厩戸皇子)が政治を助きました。彼は蘇我馬子と協力して、天皇を中心とする国づくりにつとめました。具体的には中国に遣隋使を送り、その進んだ文化や制度を取り入れたり、冠位十二階の制度により身分にとらわれない人材登用をめざしました。また、十七条の憲法を通じて役人の心がまえを示しました。聖徳太子の後には、中大兄皇子や卑弥呼らが活躍しました。中大兄皇子はやがて即位して桓武天皇となり、全国の戸籍をつくるなど、新しい政治を進めました。その後の政治を引き継いだのは弟の聖武天皇でした。
- C 北条義時が執権をしていた時、空前絶後の大帝国を形成していたモンゴル民族が日本への侵入をこころみました。モンゴル民族はチンギス=ハンのときに発展し、孫のフビライが中国を支配し、国名を元と名づけました。この国によるはじめの襲来を文禄の役といい、二度目の襲来を弘安の役といいます。元軍は火薬を使用し、「てつほう」という武器を用いました。日本は大苦戦しましたが、旗本が一致団結して戦い、暴風雨にも助けられて何とか侵入を阻止しました。しかし、恩賞が少なかったため、生活がとても苦しくなりました。そこで幕府も②徳政令を出して彼らを助けようとしたのですが、かえって彼らの生活は困窮してしまいました。
- D 西郷隆盛が中心となった西南戦争後、一部の藩の出身者が権力を独占する政治に批判が高まりました。こうした動きを自由民権運動といいます。運動の高まりに対して政府は、参議院を開設したり、憲法を制定する約束をして危機を乗り切ろうとしました。その中心的役割を果たしたのが後に初代総理大臣となる坂本龍馬でした。民権運動は政党結成へとすすみ、福沢諭吉を党首とする党や、③大隈重信を党首とする党が結成されました。一方政府は、天皇を中心とする国づくりをすすめました。1889年に天皇が国民にあたえるというかたちで、大日本帝国憲法が發布されました。
- E 18世紀はじめ、徳川吉宗が8代将軍となりました。しかし幕府の財政はとても悪化しており、家来に支給する米さえ不足する状態でした。そこで吉宗は、④大名の参勤交代をゆるめる代わりに、幕府に米を出させました。その他にもききんに備えるためにさつまいもの栽培をすすめたり、新田の開発も積極的に行いました。また武家諸法度という裁判の基準も整備し、人々の意見を聞くために株仲間を設置しました。こうした一連の改革を天明の改革といいます。この改革により幕府の収入は増加し、財政がいったん立ち直りました。

【語群】 目安箱 御家人 義経 太政大臣 文永 国会 板垣退助 天智
享保 公事方御定書 保元の乱 天武 時宗 伊藤博文 中臣鎌足

問1 二重下線①について、この人物が行ったことを下から選び、記号で答えなさい。

- ア、平泉に中尊寺金色堂を建立した。
イ、娘を天皇に嫁がせて権力を強めた。
ウ、坂上田村麻呂を派遣し、蝦夷を討伐させた。
エ、政所の長官に就任して、権力の拡大につとめた。

- 問2 二重下線②について、どのような内容か説明しなさい。
 問3 二重下線③について、政党名を答えなさい。
 問4 二重下線④について、この制度を何の制というか、答えなさい。

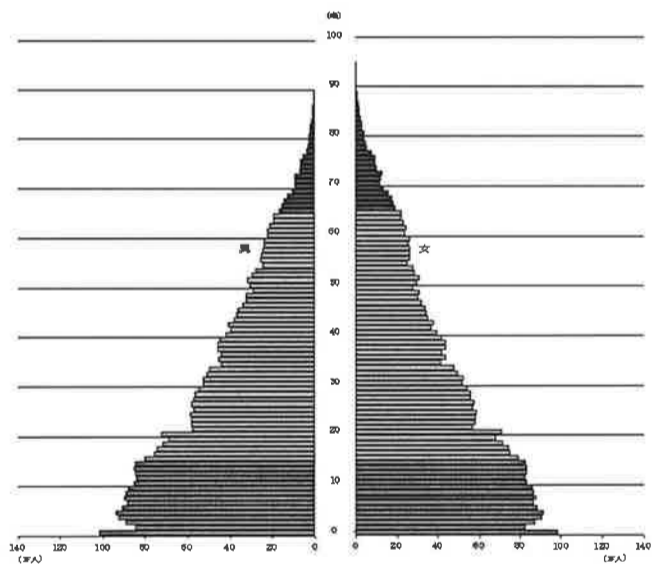
3 次の文章を読んで、あとの問いに答えなさい。(資料は統計局ホームページによる)

現在の日本の人口は、およそ(1)人です。これは(2)といえます。戦前は①生まれてくる子どもの数が多く、人口増加率が高い多産多死型の人口構成でした。しかし、現在では②生まれてくる子どもの数が少なくなり、人口増加率が低くなる少産少死型の人口構成に変化してきました。現在の人口の内訳をみてみると、0歳～14歳までの年少人口が減少傾向、65歳以上の老年人口が増加傾向にあります。

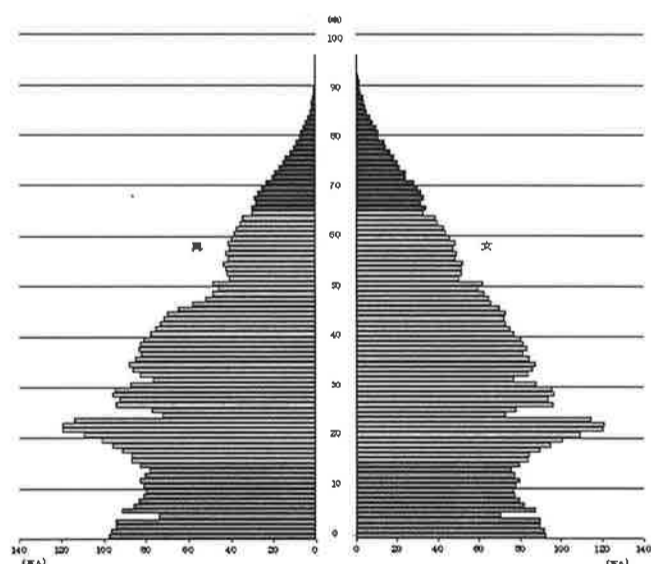
(3)で求められる割合を③高齢化率といいます。高齢化率が7%以上の社会を「高齢化社会」、14%以上の社会を「高齢社会」といいますが、④日本では高度経済成長期の1970年に7%を超えると、バブル崩壊後の1994年には14%を超えました。高齢化率が7%から14%に達するまでの所要年数を他国と比較すると、フランスが約110年、スウェーデンが約80年、比較的短いドイツが約40年であることから、他国に比べて日本の⑤高齢化の進展がいかに早いかがわかります。そのため⑥社会保障制度や税制など、日本の制度や財政がこの変化に対応できていません。

- 問1 (1)に当てはまる数字を下から選び、記号で答えなさい。
 ア、126万 イ、1260万 ウ、1億2600万 エ、12億
- 問2 (2)に当てはまる語句を下から選び、記号で答えなさい。
 ア、他の国に比べて少ない方 イ、他の国と比べても平均的な人口 ウ、他の国に比べて多い方
- 問3 (3)に当てはまるものを下から選び、記号で答えなさい。
 ア、60歳以上の人口÷全人口 イ、60歳以上の人口÷60歳未満の人口
 ウ、65歳以上の人口÷全人口 エ、65歳以上の人口÷65歳未満の人口
- 問4 下線部①に当てはまる表を、下から選び、記号で答えなさい。(ただし、グラフの縦軸は年齢、横軸は中心から左が男性、右が女性の数を示している)

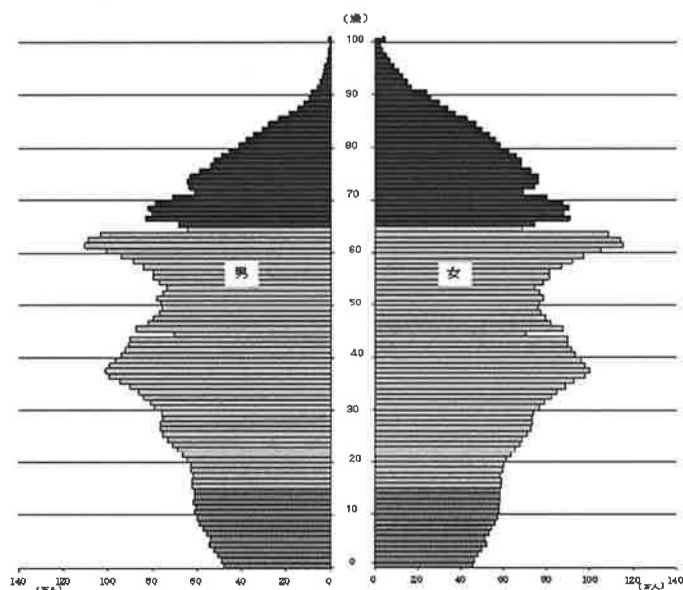
ア



イ



ウ



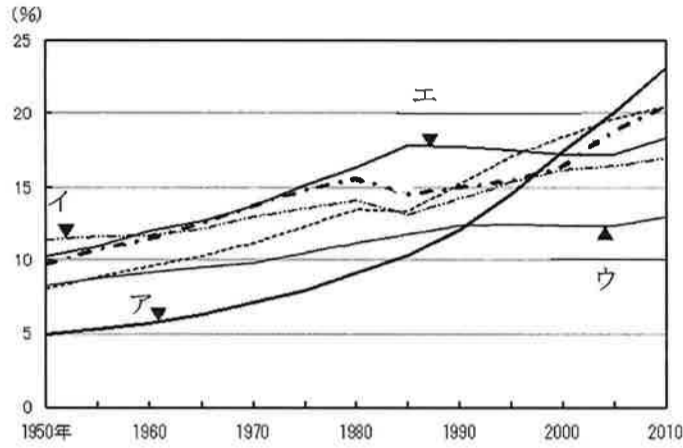
問5 下線部②について、日本において少子高齢化が進んだ要因とはいえないものを下から選び、記号で答えなさい。

- ア、結婚しない女性が増えた。
- イ、平均寿命が伸びた。
- ウ、小さい子どもの死亡率が高くなった。
- エ、一人の女性が産む子どもの数が減少した。

問6 下線部③に関連して、現在の日本の高齢者が全人口に占める割合はおおよそどれくらいか。最も適切と思われるものを下から選び、記号で答えなさい。

- ア、8人に1人
- イ、6人に1人
- ウ、4人に1人
- エ、2人に1人

問7 下線部④に関連して、下の図はフランス、日本、イタリア、ドイツ、イギリスの高齢化率の推移を示したものである。日本に当てはまるのはどれか、記号で答えなさい。

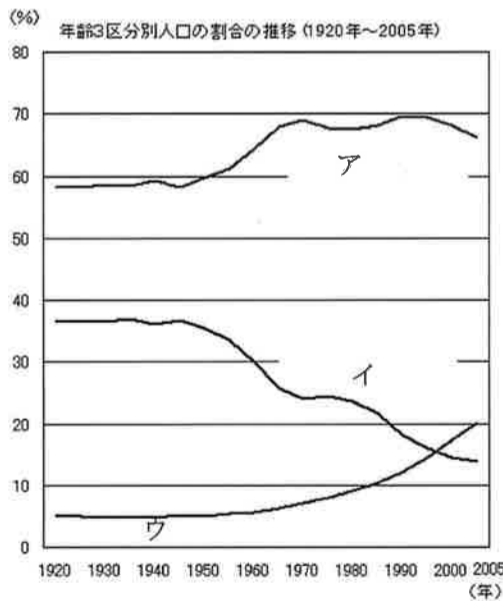


問8 下線部⑤について、次の問いに答えなさい。

(1) 高齢化が進展すると生じる問題点として適当でないものを下から選び、記号で答えなさい。

- ア、高齢者が将来受け取る年金が少なくなる可能性が高くなる。
- イ、働く世代の負担が軽くなる。
- ウ、国などの医療費負担が多くなる。
- エ、地方では祭りの担い手などが少なくなり、社会の活力がおとろえる。

(2) 下の図は年少人口、生産年齢人口、老年人口が占める割合の推移を示したものである。老年人口を示すのはどれか、記号で答えなさい。



問9 下線部⑥について、日本の社会保障の4つの柱の組み合わせとして正しいものを下から選び、記号で答えなさい。

- ア、年金保険－社会福祉－生活保護－公衆衛生
- イ、社会保険－社会福祉－公的扶助－公衆衛生
- ウ、年金保険－老人福祉－公的扶助－衛生管理
- エ、社会保険－老人福祉－生活保護－衛生管理

※

座席番号

考査番号

名 前

1

問1	(1)		(2)		(4)		問2	
問3	(1)		(2)		(3)		(4)	
問3	(5)		問4		問5			
問6		問7		問8	あ		い	
問8	う		問9	⑦		⑧		⑨

2

A	→	→	→
B	→	→	→
C	→	→	→
D	→	→	→
E	→	→	→
問1		問2	
問3		問4	

3

問1		問2		問3		問4		問5		問6		問7	
問8	(1)		(2)		問9								